

ZADANIA:

1. Jakim wydarzeniom poświęcone są tablice na murze Ratusza ?

1

2. Jak nazywa się układ urbanistyczny, na którym opiera się plan średniowiecznego Starego Miasta ?

1

3. Jakie figury przedstawiają klamki w "starym" kościele pw. św. Bartłomieja ?


1

4. Który z pokazanych na zdjęciach elementów kościoła pw. Wszystkich Świętych NIE charakteryzuje stylu gotyckiego?:

1




A.skarpy (przypory) **B.**sklepienie krzyżowe **C.**hełm cebulasty **D.**ostrołuki **E.**maswerk



Wejście na wieżę kościoła
pw. Wszystkich Świętych

2




Muzeum w Gliwicach
Oddział "Zamek Piastowski"

3

WYCIECZKI Z WĘDROWCEM



trasa 1



Stare Miasto



Imię i nazwisko uczestnika:

Dane kontaktowe: (adres / telefon / e-mail)

Stowarzyszenie na Rzecz Dziedzictwa Kulturowego Gliwic

"Gliwickie Metamorfozy"

44-100 Gliwice, ul. Jagiellońska 21

e-mail: gliwickie_metamorfozy@op.pl

tel.: 515-509-354; 601-065-019

1. Rynek
2. studnia
3. fontanna z rzeźbą Neptuna
4. narożna kamienica nr 8
5. kamienica nr 17 – dom Johna Baildona
6. klasycystyczny budynek nr 18
7. kamienica nr 19
8. kamienica nr 23 – dom rodziny Blandowskich
9. kamienica nr 25
10. ratusz
11. rzeźba „Gliwiczanka”
12. mury miejskie
13. pozostałości Bramy Białej
14. pozostałości Bramy Czarnej, przedbramia oraz fragmentu fosy
15. plebania
16. Dwór Cetrycza, tzw Zamek Piastowski
17. kościół pw. Wszystkich Świętych

poza mapą:

18. kościół pw. św. Bartłomieja
19. dwór w Szobiszowicach
20. spichlerz

